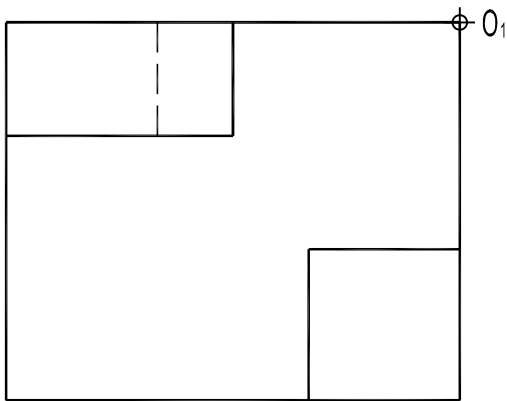
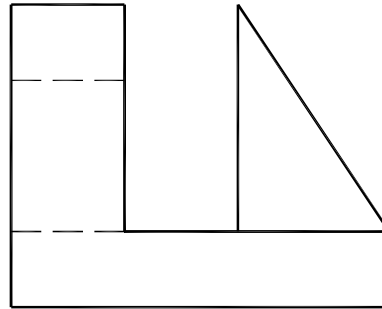
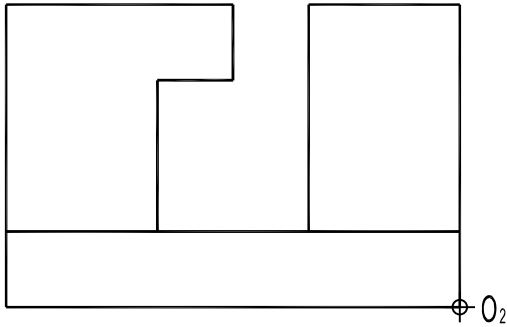


8. Dados el alzado, la planta y la vista lateral de una pieza, represente la vista directa de la misma en dibujo isométrico (sin coeficientes de reducción), a la misma escala que las vistas. Sitúe el punto O en la posición indicada. Incluya todas las líneas ocultas. (2 PUNTOS)

8. Donats l'alçat, la planta i la vista lateral d'una peça, representeu-ne la vista directa en dibuix isomètric (sense coeficients de reducció), a la mateixa escala que les vistes. Situeu el punt O en la posició indicada. Inclogueu-hi totes les línies ocultes. (2 PUNTS)



J. A. MARÍN GARRIDO
<http://jamgpa.com>
jamgpa@hotmail.es

⊕⁰

JAMGPA