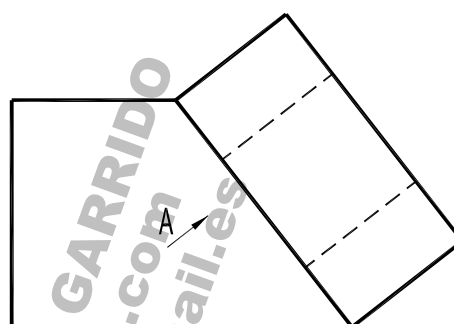
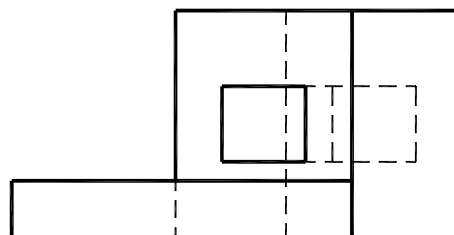
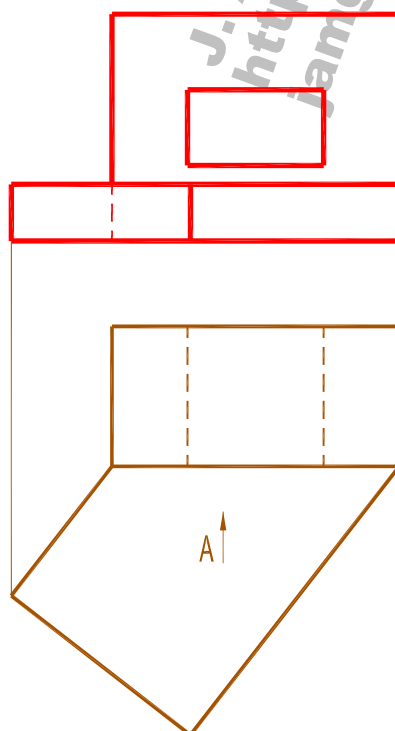


2.- NORMALIZACIÓN (3 PUNTOS)

Dado el alzado y la planta de la pieza dibuja la vista auxiliar siguiendo la dirección "A" indicada, a escala 1 : 1.
Toma las medidas de las vistas dadas.



VISTA A



FECHA: Junio 2024

ALUMNO / A : _____

EJERCICIO Nº: 2 (Bloque 1)

EvAU Navarra 2023-2024 (Extraordinaria)